



# Karta zgłoszenia do konkursu OZE dla najmłodszych

## KLASY I-III SP

Imię i nazwisko: ..... Telefon: .....

Adres: ..... e-mail: .....

Nazwa i adres szkoły/placówki oświatowej: .....

Imię i nazwisko nauczyciela/opiekuna: ..... Telefon: .....

.....

podpis nauczyciela/opiekuna

Oświadczam, że zapoznałem się z treścią regulaminu konkursu na stronie [www.naszaenergia.kujawsko-pomorskie.pl/o-projekcie/konkursy/oze-dla-najmlodszych/regulamin/](http://www.naszaenergia.kujawsko-pomorskie.pl/o-projekcie/konkursy/oze-dla-najmlodszych/regulamin/) i że zgodnie z Ustawą z dn. 29.08.97 o Ochronie Danych Osobowych Dz. Ust. Nr 133 poz.883 wyrażam zgodę na przetwarzanie danych osobowych, zawartych w złożonych przeze mnie danych niezbędnych do realizacji konkursu.

### Zaznacz prawidłowe odpowiedzi stawiając znak X w odpowiedniej kratce.

1. Z poniższych rysunków zaznacz trzy, które przedstawiają źródła energii.

węgiel


fale/woda

drewno

długopis

żaba

gniazdko elektryczne



2. Wybierz jedną rzecz lub urządzenie, które przetwarza energię słoneczną na elektryczną.

bele słomy


turbina wiatrowa

elektrownia wodna

panel słoneczny

węgiel

ropa naftowa



3. Większość energii na świecie powstaje z paliw kopalnych wydobywanych z Ziemi.

Wśród źródeł energii zaznacz dwa, które są paliwami kopalnymi.



węgiel

ropa naftowa


energia geotermalna

słońce

wiatr



4. Wybierz dwa obrazki ukazujące wpływ spalania paliw kopalnych na środowisko.



5. Zaznacz cztery źródła energii przyjazne dla środowiska.


wiatr




woda



słońce



biomasa




węgiel




ropa naftowa



7. Z jakim odnawialnym źródłem energii kojarzą Ci się 3 rysunki poniżej? Zaznacz jedną odpowiedź.




woda




wiatr




słońce



biomasa




8. Wybierz rysunek przedstawiający solar.



9. Korzystanie z kopalnych/niednawialnych źródeł energii może zmieniać klimat na Ziemi.  
Wybierz trzy obrazki przedstawiające te zmiany.

ocieplenie się klimatu



powódzie



huragan

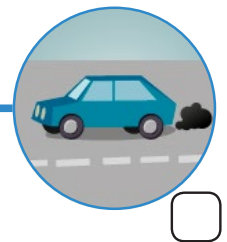
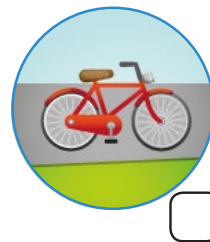


oziębienie się Ziemi



10. Im mniej energii zużywasz w codziennym życiu tym lepiej dla środowiska.

Z każdej pary wybierz jeden przedmiot bardziej przyjazny dla środowiska i zaznacz go.



PROGRAM REGIONALNY  
NARODOWA STRATEGIA SPÓJNOŚCI



WOJEWÓDZTWO  
KUJAWSKO-POMORSKIE

UNIA EUROPEJSKA  
EUROPEJSKI FUNDUSZ  
ROZWOJU REGIONALNEGO

